

UGENS TAL

0. klasse



UGENS TAL
Tallene 0 til 10

Tallet før og efter
 ← →

10'er - ven
 + = 10

Farv penge
 1 1 1 1
 1 1 1 1
 1 1 1 1

Sæt tallet ind på tallinjen
 0 10

Skriv pæne tal

UGENS TAL
Tallene 0 til 20

Tallet før og efter
 ← →

Lav plus-stykker
 + 10 =
 + 9 =
 + 5 =

Tegn penge
 1 10

Sæt tallet ind på tallinjen
 0 20

Skriv pæne tal

©Trine Klavsen

Om denne udgivelse

Tak fordi du hentede mit materiale.
Jeg håber at du og dine elever får glæde af det.

Dette materiale er udarbejdet af Trine Klavsén og udgivet på BubbleMinds.dk

Hvis du har spørgsmål eller kommentarer til mit materiale, er du meget velkommen til at skrive til mig på:
trine.klavsén@gmail.com

Se mere på facebook: <https://www.facebook.com/matematiknorden>

Al kopiering, analogt og digitalt, af dette materiale eller dele deraf er tilladt i henhold til undervisningsinstitutionens aftale med Copydan Tekst & Node. Kopiering, der går ud over begrænsningsreglerne i aftalen med Copydan Tekst & Node, kan alene finde sted efter forudgående aftale med licensgiver.

Illustrationer:



Stickers

<https://www.flaticon.com>



Freepik

<https://www.freepik.com>

Vejledning:


Hver uge gives der et nyt tal, som skrives ind i den tomme boks.
Herefter er det bare at regne løs.

UGENS TAL

Tallene 0 til 10



10'er – ven



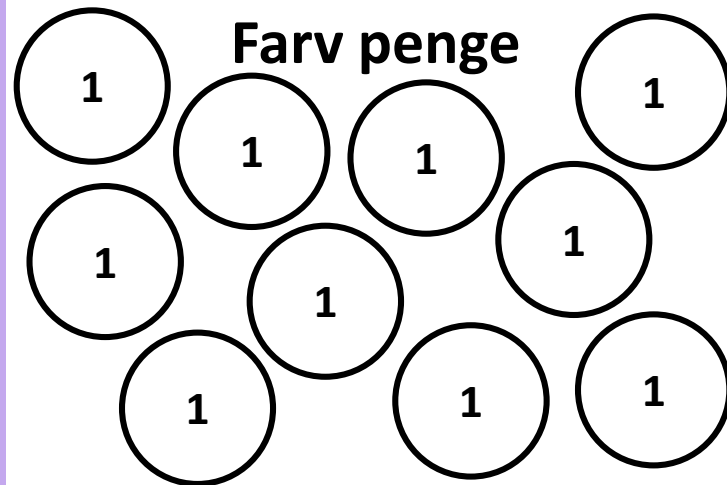
$$\square + \square = 10$$



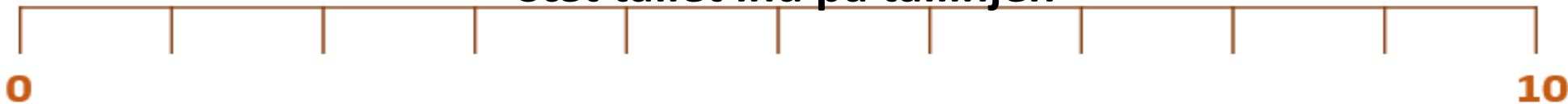
Tallet før og efter



Farv penge




Sæt tallet ind på tallinjen



Skriv pæne tal

UGENS TAL

Tallene 0 til 20



Tallet før og efter



Lav plus-stykker

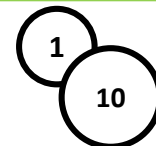
$$\square + 10 = \square$$

$$\square + 9 = \square$$

$$\square + 5 = \square$$



Tegn penge



Sæt tallet ind på tallinjen



Skriv pæne tal


Handwriting practice lines consisting of a solid top line, a dashed middle line, and a solid bottom line.

UGENS TAL

Tallene 0 til 10



10'er – ven

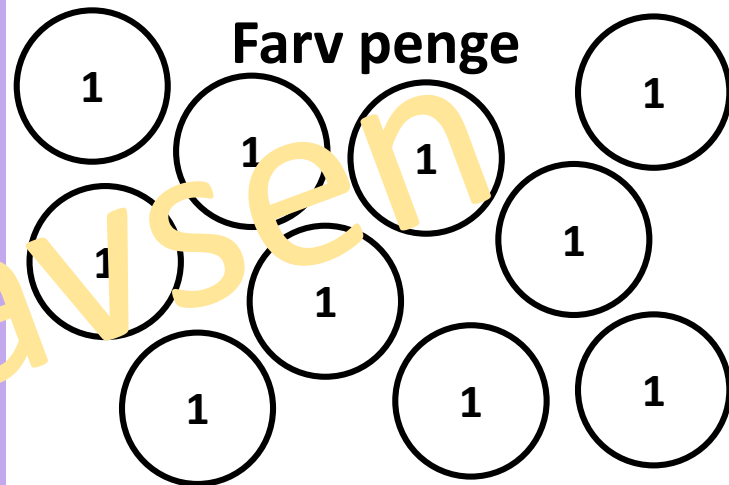


$$\square + \square = 10$$

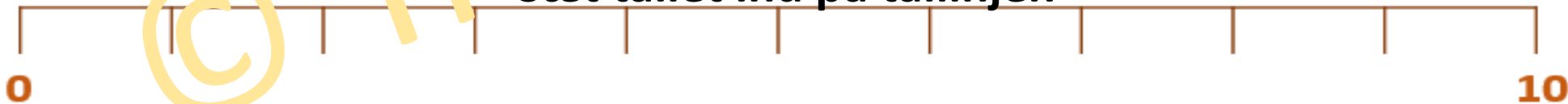
Tallet før og efter



Farv penge



Sæt tallet ind på tallinjen



Skriv pæne tal

Handwriting practice lines consisting of a solid top line, a dashed middle line, and a solid bottom line.

UGENS TAL

Tallene 0 til 20



Tallet før og efter



Lav plus-stykker

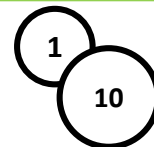
$$\square + 10 = \square$$

$$\square + 9 = \square$$

$$\square + 5 = \square$$



Tegn penge



Sæt tallet ind på tallinjen



Skriv pæne tal

Handwriting practice lines consisting of a solid top line, a dashed middle line, and a solid bottom line.